

Μάθημα 2
Γ' Τάξη
30/3-6/4/2020

Αγαπημένα μου παιδιά !

Ακολουθείστε τις οδηγίες που αναγράφονται στις εικόνες.

Εάν δεν έχετε την δυνατότητα εκτύπωσης, τότε αντιγράψτε τις νότες στο τετράδιο σας

Να είστε πάντα καλά

Ευχές σε όλους και πάντα με υγεία

Οι νότες στο κλειδί του ΣΟΛ




A musical staff in the Sol clef (C4) showing the notes of the scale. The notes are: C4 (ΝΤΟ), D4 (ΡΕ), E4 (ΜΙ), F4 (ΦΑ), G4 (ΣΟΛ), A4 (ΛΑ), B4 (ΣΙ), C5 (ΝΤΟ), D5 (ΡΕ), E5 (ΜΙ), F5 (ΦΑ), G5 (ΣΟΛ), A5 (ΛΑ). The syllables are written below the staff.

ΟΙ ΝΟΤΕΣ ΝΤΟ' ΚΑΙ ΡΕ'



Χρωματίστε με: **γαλάζιο** μαρκαδόρο τα τετράγωνα πάνω από τα οποία βρίσκονται οι νότες ντό και **κίτρινο** μαρκαδόρο τα τετράγωνα πάνω από τα οποία βρίσκονται οι νότες ρε'.




Αντιγράψτε το παραπάνω κομμάτι.

ΝΟΤΕΣ ΣΤΙΣ ΓΡΑΜΜΕΣ



Ζωγραφίστε μια νότα αξίας ενός ολόκληρου στην τέταρτη γραμμή και ονομάστε τη στο διπλανό τετράγωνο.




Ζωγραφίστε μια νότα αξίας ενός ολόκληρου στην πρώτη γραμμή και ονομάστε τη στο διπλανό τετράγωνο.



Ζωγραφίστε μια νότα αξίας ενός ολόκληρου στην πέμπτη γραμμή και ονομάστε τη στο διπλανό τετράγωνο.



Ζωγραφίστε μια νότα αξίας ενός ολόκληρου στην τρίτη γραμμή και ονομάστε τη στο διπλανό τετράγωνο.



Ζωγραφίστε μια νότα αξίας ενός ολόκληρου στη δεύτερη γραμμή και ονομάστε τη στο διπλανό τετράγωνο.



ΝΟΤΕΣ ΣΤΑ ΔΙΑΣΤΗΜΑΤΑ



Ζωγραφίστε μια νότα αξίας ενός ολόκληρου στο δεύτερο διάστημα και ονομάστε τη στο διπλανό τετράγωνο.



Ζωγραφίστε μια νότα αξίας ενός ολόκληρου στο τέταρτο διάστημα και ονομάστε τη στο διπλανό τετράγωνο.



Ζωγραφίστε μια νότα αξίας ενός ολόκληρου στο πρώτο διάστημα και ονομάστε τη στο διπλανό τετράγωνο.



Ζωγραφίστε μια νότα αξίας ενός ολόκληρου στο τρίτο διάστημα και ονομάστε τη στο διπλανό τετράγωνο.

